

SESSION : 2009	CODE : 510 33 002	Page 6 sur 27
EXAMEN : Brevet d'Etudes Professionnelles SPECIALITE : Carrières Sanitaires et Sociales Epreuve : EP2 Sciences et Technologie		Durée : 4 heures Coefficient : 8

SCIENCES MEDICO SOCIALES (60 points)

1. Madame Adélaïde est entrée au CH le 6 mai 2007. Au bureau d'admission, un petit document lui a été remis (Voir annexe 2 page 26/27).

1.1. Nommer le document qui lui a été remis.

.....

1.2. Ce document contribue à rendre les hôpitaux plus accueillants. Citer trois autres éléments ne figurant pas dans l'annexe 2 page 26/27 et qui participent à rendre plus agréable le séjour du patient.

.....

.....

.....

.....

.....

.....

1.3. Indiquer la signification du sigle CH.

.....

SESSION : 2009	CODE : 510 33 002	Page 7 sur 27
EXAMEN : Brevet d'Etudes Professionnelles SPECIALITE : Carrières Sanitaires et Sociales Epreuve : EP2 Sciences et Technologie		Durée : 4 heures Coefficient : 8

1.4. Attribuer à chaque compétence énumérée ci-dessous la mission de l'établissement de santé qui lui correspond.

Compétences		Missions	
A	Réception des urgences	1	Enseignement
B	Plateau technique (salle d'opération, de réanimation, unité de radiodiagnostic...)	2	Diagnostic
C	Recherche, formation initiale et continue	3	Soins
D	Accessibilité 24h/24	4	Accueil permanent
E	Médecine préventive	5	Aide médicale urgente
F	Présence des médecins généralistes et spécialistes au service des usagers	6	Information et éducation pour la santé

Compétences	A	B	C	D	E	F
Numéro de la mission correspondante						

2. Chaque jour depuis son arrivée, différents professionnels se relaient auprès de Madame Adélaïde et de Matéo.

2.1. Citer le professionnel qui va s'occuper spécifiquement :

- de l'accouchement de Madame Adélaïde :

.....

- des soins d'hygiène de Matéo :

.....

- du bionettoyage de la chambre et du service des repas :

.....

- du test de Guthrie :

.....

SESSION : 2009	CODE : 510 33 002	Page 8 sur 27
EXAMEN : Brevet d'Etudes Professionnelles SPECIALITE : Carrières Sanitaires et Sociales Epreuve : EP2 Sciences et Technologie		Durée : 4 heures Coefficient : 8

2.2. Chaque matin depuis son arrivée, un membre du personnel du centre hospitalier entre dans sa chambre pour refaire son lit. Indiquer le statut de cette personne et le type de diplôme pour travailler à ce poste.

- statut :

- diplôme requis :

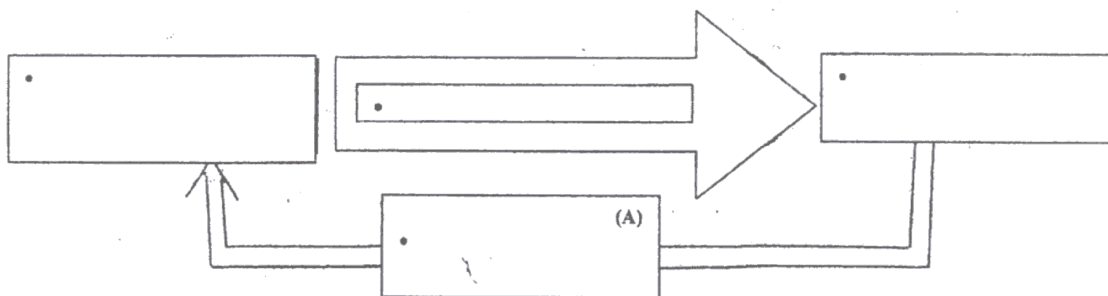
2.3. Citer la règle déontologique à laquelle sont soumis tous les professionnels de santé en ce qui concerne l'état de santé et la vie privée des patients.

.....

3. Après trois jours passés dans son lit à cause de la césarienne, Madame Adélaïde peut enfin se lever et participer au bain de Matéo.

3.1. Le bain est un moment privilégié pour communiquer avec l'enfant. Compléter le schéma de la communication et donner la signification du terme utilisé dans la case A.

Schéma de la base de la communication



Signification du terme utilisé dans la case (A) :

.....

SESSION : 2009	CODE : 510 33 002	Page 9 sur 27
EXAMEN : Brevet d'Etudes Professionnelles SPECIALITE : Carrières Sanitaires et Sociales Epreuve : EP2 Sciences et Technologie		Durée : 4 heures Coefficient : 8

3.2. Indiquer en entourant dans la liste suivante la forme de communication utilisée par Matéo et justifier ce choix.





- communication verbale.
- communication orale.
- communication non verbale.

Justification :

.....

4. Matéo a subi plusieurs examens depuis sa naissance.

4.1. Nommer et décrire les réflexes en complétant le tableau ci-dessous.

Réflexes testés		
Illustrations	Noms	Description
		
		
		
		

SESSION : 2009	CODE : 510 33 002	Page 10 sur 27
EXAMEN : Brevet d'Etudes Professionnelles SPECIALITE : Carrières Sanitaires et Sociales Epreuve : EP2 Sciences et Technologie		Durée : 4 heures Coefficient : 8

4.2. Nommer l'ensemble de ces réflexes et justifier leur intérêt.

.....
.....

4.3. Citer les trois indicateurs de croissance vérifiés lors de la naissance de Matéo.

.....
.....
.....

4.4. Indiquer un intérêt du test de GUTHRIE et préciser à quel moment il est réalisé.

.....
.....
.....

4.5. Indiquer le poids et la taille approximatifs d'un enfant né à terme en cochant la case correspondante.

Poids : 5 kg 400 2kg 300 4kg 500 3 kg 300
Taille : 35 cm 55 cm 50 cm 60 cm

4.6. Nommer le document dans lequel figurent les différentes informations recueillies au cours de ces examens.

.....

4.7. Citer deux intérêts de ce document.

.....
.....
.....
.....

SESSION : 2009	CODE : 510 33 002	Page 11 sur 27
EXAMEN : Brevet d'Etudes Professionnelles SPECIALITE : Carrières Sanitaires et Sociales Epreuve : EP2 Sciences et Technologie		Durée : 4 heures Coefficient : 8

5. Madame Adélaïde n'a pas pu se rendre au bureau de vote pour l'élection présidentielle.

L'organisation du pouvoir :

L'administration met en application les décisions prises par le pouvoir politique. Ce dernier est représenté par le parlement et le gouvernement. Le parlement est représenté par les députés, élus au suffrage universel direct pour 5 ans et les sénateurs, élus indirectement par un collège d'électeurs pour 6 ans.
Le chef du gouvernement est le premier ministre, nommé à cette fonction par le président de la République. Ce dernier est le chef de l'Etat, élu au suffrage universel pour 5 ans.

Source : Extraits de Sciences Sanitaires et Sociales, Savoirs et Concepts. P. Régibier et E. Séhan-Chamirade, Editions Casteilla.

5.1. La république française est partagée en 3 pouvoirs. Relier chacun de ces pouvoirs à sa définition et nommer le(s) représentant(s) qui en a (ont) la charge en complétant le schéma suivant.

Représentants	Pouvoirs
	Pouvoir judiciaire
	Pouvoir exécutif
	Pouvoir législatif

Définition
Pouvoir de voter les lois
Pouvoir de faire appliquer les lois
Pouvoir de veiller au respect des lois et de sanctionner en cas d'infraction

6. A l'issue de son congé maternité, Madame Adélaïde reprendra son travail. Elle a prévu de mettre Matéo en crèche collective.

6.1. Indiquer la caractéristique de ce mode d'accueil et deux de ses objectifs.

- Caractéristique :

.....

- Objectifs :

.....

.....

SESSION : 2009	CODE : 510 33 002	Page 12 sur 27
EXAMEN : Brevet d'Etudes Professionnelles SPECIALITE : Carrières Sanitaires et Sociales Epreuve : EP2 Sciences et Technologie		Durée : 4 heures Coefficient : 8

6.2. Citer deux autres modes d'accueil possibles pour Matéo.

.....
.....

6.3. Présenter deux catégories différentes de personnel en crèche collective et préciser leur rôle respectif.

.....
.....
.....
.....
.....
.....

6.4. Pour être accepté en crèche, Matéo doit subir la vaccination « D.T.P. ». Justifier l'intérêt de cette vaccination.

.....
.....
.....

6.5. A la sortie de la maternité, le pédiatre a rédigé le certificat de santé du 8^{ème} jour. Indiquer les âges auxquels les prochains certificats de santé devront être rédigés.

.....
.....

6.6. Enoncer deux rôles des certificats de santé.

.....
.....

6.7. Citer la prestation versée par la Caisse d'Allocations Familiales à la naissance de Matéo.

.....